

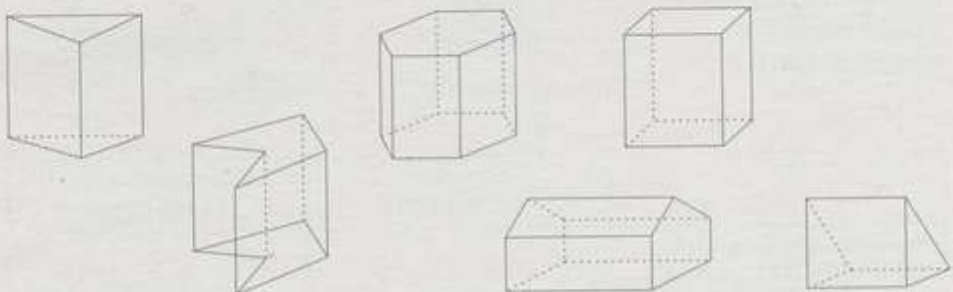
Temat: Figury przestrzenne- karta pracy.

Dzisiaj takie małe utrwalenie....

Zadania obowiązkowe to 1,2,4.

Zadania dla chętnych to zad. Z zad. 2 pkt g) oraz zad. 3

1. Na rysunkach są przedstawione graniastosłupy proste. Pokoloruj podstawy tych graniastosłupów. Innym kolorem zaznacz krawędzie boczne.



2. Uzupełnij zdania.

a) Graniastosłup czworokątny ma ściany boczne i wierzchołków.


b) Graniastosłup trójkątny ma krawędzi i ścian.

c) Graniastosłup sześciokątny ma krawędzi, w tym krawędzi bocznych i krawędzi podstaw.

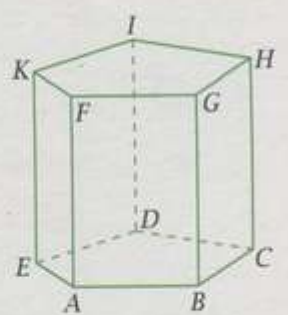
d) Graniastosłup ma 7 ścian.

e) Graniastosłup ma 8 krawędzi bocznych.

f) Graniastosłup ma 16 wierzchołków.

 g) Graniastosłup, którego podstawa jest wielokątem o x bokach, ma wierzchołków, ścian i krawędzi.

3. Spójrz na poniższy rysunek graniastosłupa prostego pięciokątnego. Wypisz:




a) dwie pary krawędzi równoległych:
.....

b) dwie pary krawędzi prostopadłych:
.....

c) dwie pary ścian prostopadłych:
.....

4. Wpisz pod rysunkami odpowiednie litery zgodnie z opisem w ramce.



Proszę rozwiązać zadania i wysłać zdjęcia swojej pracy (na ocenę) do 08.05.2020 na adres: halina.rynczuk@onet.pl