

03.06.2020 kl. 8b

etyka



Temat: Niezwykła relacja matki i dziecka.

Relacja matki z dzieckiem jest niepodważalnie najważniejszym doświadczeniem, jakie dotyczy człowieka od pierwszych chwil jego życia. Nic dziwnego, że motyw matki i jej relacji z dzieckiem pojawia się tak często w literaturze i sztuce.

Obejrzyj poniższe dzieła artystów malarzy, na których przedstawione są różne oblicza macierzyństwa.



Włodzimierz Tetmajer „Dorobek” – na obrazie rodzina malarza



Kolejno:

Stanisław Wyspiański: „Macierzynstwo”

Olga Boznańska: „Macierzyństwo”

Pino Daeni: „Radosne wspomnienia”



Kolejno:

Wojciech Weiss „Portret matki z córką”

Wincenty Wodzinowski: „Portret matki”

Aniela Pająkówna: „Autoportret z córką”

matematyka

Godzina 8.55 – lekcja na TEAMS

Temat: Graniastosłupy – powtórzenie przed egzaminem

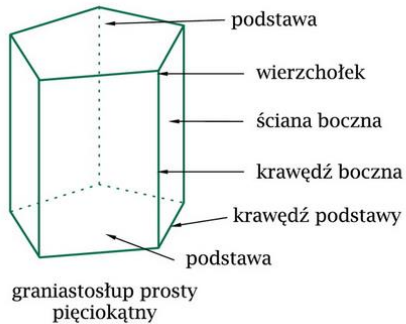
1. Przepisz temat do zeszytu.

2. Omówienie pracy domowej z wtorku 2.06.2020

3. ZAPAMIĘTAJ!

a)

Na poniższym rysunku przedstawiony jest **graniastosłup prosty**. Taki graniastosłup ma dwie podstawy, które są równoległymi i przystającymi wielokątami, a jego ściany boczne są prostokątami.



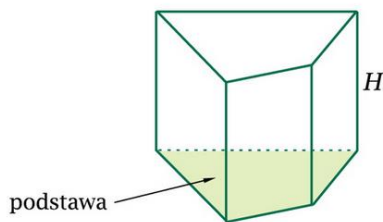
Krawędzie boczne graniastosłupa prostego są równoległe, mają jednakową długość i są prostopadłe do podstaw.

Wysokość graniastosłupa prostego jest równa długości krawędzi bocznych.

Graniastosłup prosty, którego podstawa jest wielokątem foremnym, nazywamy **graniastosłupem prawidłowym**.

b)

Poniżej przypominamy, jak obliczamy objętość i pole powierzchni graniastosłupa.



Objętość graniastosłupa: $V = P_p \cdot H$

P_p – pole podstawy

H – wysokość graniastosłupa

Pole powierzchni całkowitej: $P_c = 2P_p + P_b$

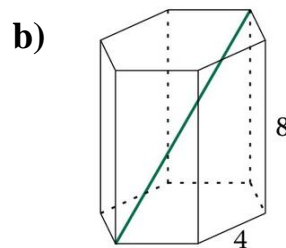
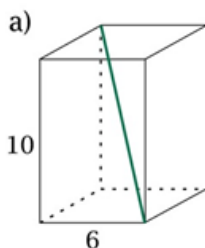
P_p – pole podstawy

P_b – pole powierzchni bocznej (suma pól wszystkich ścian bocznych)

4. Zadania, które będziemy rozwiązywać podczas lekcji.

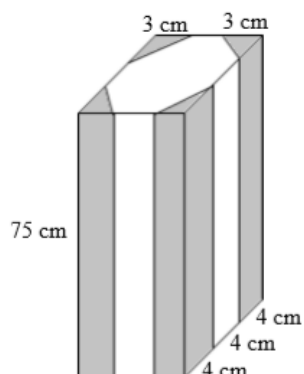
Zadanie 1

Oblicz długości zaznaczonych przekątnych graniastosłupów prawidłowych.



Zadanie 2

W fabryce mebli z kawałka drewna w kształcie prostopadłościanu o wymiarach 9 cm, 12 cm i 75 cm wycinana jest noga do stołu (patrz rysunek). Noga taka ma kształt graniastosłupa o podstawie ośmiokątnej. Podczas produkcji jednej nogi powstają odpady, którymi są cztery jednakowe kawałki drewna (oznaczone na rysunku szarym kolorem) o kształcie i wymiarach podanych na rysunku.

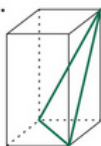


Do produkcji nóg używane jest drewno, którego 1 cm^3 ma masę 0,5 g. W ciągu godziny produkuje się 15 takich nóg. Ile kilogramów odpadów wytwarzanych jest w tej fabryce w ciągu jednej godziny pracy? Zapisz obliczenia.

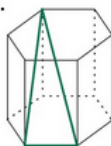
5. Zadania do samodzielnego rozwiązania:

1. Rysunki przedstawiają graniastosłupy prawidłowe. Na którym rysunku zaznaczony trójkąt nie jest równoramienny?

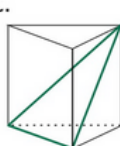
A.



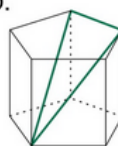
B.



C.



D.



2. Jaką długość ma przekątna graniastosłupa prawidłowego czworokątnego, w którym krawędź podstawy ma 4 cm, a krawędź boczna ma 7 cm?

A. 11 cm B. 9 cm C. $\sqrt{65}$ cm D. 15 cm

3. Podstawą graniastosłupa prostego o wysokości 8 cm jest trójkąt, którego boki mają długości 4 cm, 5 cm i 6 cm. Najdłuższa z przekątnych ścian bocznych ma długość:

A. 9 cm B. 10 cm C. $\sqrt{61}$ cm D. 14 cm

Źródło: podręcznik *Matematyka 8 wyd. GWO*

www.oke.jaworzno.pl

Rozwiąż zadania z punktu 5.

Przygotuj się do zaprezentowania swoich rozwiązań podczas lekcji w czwartek 4.06.2020

Iwona Strugała

i. polski

T: Podsumowanie wiadomości o zdaniach złożonych

1. Wpisz do zeszytu poniższe zdania , określ rodzaj i narysuj wykresy

Wydaje mi się (1), że czytałem tę książkę (2).

On zawsze jest taki (1), jakim go znasz od wielu lat (2).

Położenie było takie (1), że trudno było powziąć jakąś decyzję (2).

Bogini Hestia chroni tych (1), którzy do niej zwracają się z prośbą o opiekę (2).

Czułem (1), jak mój entuzjizm udzielał się zebrany

Dziecko zapytało (1), która godzina

Zebrani wykazali takie zainteresowanie referatem (1), że rozgorzała bardzo ożywiona dyskusja (2).

Jaki piątek (1), taki świętek (2).

Leda była boginią Leto (1), która urodziła Artemidę i Apollina (2).

Apollo obiecał Kyrene zabrać tam (1), gdzie będzie mogła polować (2).

Kronos i tytani zostali zepchnięci do Tartaru (1), gdzie strzegli ich Sturamienni

Akteon podbiegł do rzeki (1), gdy dostrzegł Artemidę (2)

Gdy słońce wyszło zza góry (1), mgły opadły (2).

Artemida zesłała jagnię (1), by wypróbować Atreusa (2).

Wszyscy rano się śpieszą (1), aby nie spóźnić się do pracy (2).

Atena miała powody do zazdrości (1), ponieważ Arachne tkala piękniej od niej (2).

Śmieję się z ciebie (1), że jesteś łatwowierny

j. angielski

gr. 1

Topic: Rozwijanie umiejętności egzaminacyjnych – zadania egzaminacyjne.

Witam Was serdecznie ☐

Dalszy ciąg naszego próbnego sprawdzianu ☐

Praca domowa: wykonaj zadania: 8,9 i 10.

Proszę, powtórzcie czasy i tryby warunkowe.

I tryb warunkowy: If it doesn't rain, we will go to the park.

II tryb warunkowy: If you came back earlier, you would meet him. Uwaga na

Present Perfect – zwykle pojawia się na sprawdzianie. Słynne przykłady:

Have you ever been to Spain?

I have never been....

I have just finished it.

Zostały nam 4 lekcje do Waszego egzaminu – trzymam kciuki.

Dacie radę – jesteście świetni ☐☐☐

YOU ARE THE BEST ☐

gr. 2

Hello ☐ How are you today?

Are you ready for our English lesson? Let's practise for your exam 😊

ZAPRASZAM NA SPOTKANIE NA TEAMSACH O 11.00

Topic: Exam skills.

Na rozgrzewkę wykonaj ćwiczenie 4 ze strony 118 w podręczniku, utrwalenie poznanych czasów, odpowiedzi zapisz do zeszytu.

Następnie otwórz podręcznik na stronie 115 i wykonaj ćwiczenia 2 – plik dźwiękowy 3.40 dostępny na stronie szkoły oraz ćwiczenie 5 – plik dźwiękowy 3.42 również na stronie szkoły.

Przypomnij sobie zwroty wymagane do egzaminu:

<https://wordwall.net/pl/resource/506182/angielski/funkcje-jezykowe>

Ćwiczenia egzaminacyjne:

Przeczytaj poniższe pary zdań. Uzupełnij każdą lukę, tak aby zachować znaczenie zdania wyjściowego.

1. There are too **few** shops in our town.

There aren't _____ town.

2. That's **our** car.

That car _____

3. We **arrived** in Berlin on Thursday.

We _____ since Berlin.

4. They **came** during our lunch.

We _____ lunch when they came.

5. Nigel is a very **good** dancer.

Nigel dances _____

6. We'll be late **if** you don't hurry up.

Unless _____, we'll be late.

7. James Cameron **directed** Avatar.

Avatar _____ James Cameron.

Dla chętnych: Powtórzenie zwrotów potrzebnych do wypowiedzi pisemnych, przeczytaj i przypomnij sobie http://www.sp6.laziska.pl/poradnik_pisania.htm; następnie zachęcam do zrobienia tego ćwiczenia online <https://wordwall.net/pl/resource/1342288/angielski/writing-e8-1>

gr. 3

Klasa 8a,b,c 03.05.2020

Temat: ‘‘ Does intelligence change?’’-reading comprehension. KNO.

Bardzo Was proszę, abyście w dniu dzisiejszym zapoznali się tekstem ze strony 113 i wykonanie zadań 2 oraz 3 ze strony 113 z podręcznika.

W zadaniu 2 należy dobrać nagłówki a-f do paragrafów 1-4.

W zadaniu 3 należy zdecydować, czy zdania wyrażają prawdę czy fałsz.

Słówka pomocnicze w zrozumieniu tekstu:

1. **Modern education-** nowoczesna edukacja
2. **Poor learners-** kiepscy uczniowie
3. **According to –** według..
4. **IQ tests-** testy na inteligencję
5. **An average score-** przeciętny wynik
6. **Probably-** prawdopodobnie
7. **Improve-** ulepszać
8. **Influence-** wpływ na coś
9. **Main reason-** główny powód
10. **React quickly-** reagować szybko
11. **Digital word-** świat cyfrowy
12. **Be afraid of making mistakes-** bać się popełnienia błędów
13. **Humans-** ludzie
14. **Base-** opierać
15. **Responsible for-** być odpowiedzialnym za..
16. **Challenging-** wyzywający

edukacja dla bezpieczeństwa

Witajcie Ósmoklasiści ;)

Dzisiaj dla przypomnienia numery alarmowe.

Nie bójcie się zadzwonić gdy naprawdę będzie na to czas!!!

Powodzenia na egzaminie, trzymam kciuki ;)

NUMERY ALARMOWE

<https://ma6275.blogspot.com>



POLICJA
997



**POGOTOWIE
RATUNKOWE**
999



**STRAŻ
POŻARNA**
998

Ilustracje, źródło: "Designed by kargfx / Freepik" / <http://bocar.com.pl/> / WordPress.com / <https://www.grypsztde.pl>

wychowanie fizyczne

Temat: Pływanie na sucho.

<https://www.youtube.com/watch?v=8HEcJwJb72k>

Informatyka

Temat. Word – formatowanie tekstu, kształcenie na odległość.

1. Obejrzyj film instruktażowy. Link do filmu:
<https://www.youtube.com/watch?v=TAvScroaQGs>
2. Wykonaj ćwiczenie pokazane w filmie. Zmień kolor inicjałów oraz wstaw inny obraz komputera.
3. Zapisz pracę i wyślij w formie pliku jako załącznik w e-mail.
Pracę wyślij do nauczyciela informatyki na e-mail zagrodnik.hanna8@gmail.com do 05.06.2020 r.