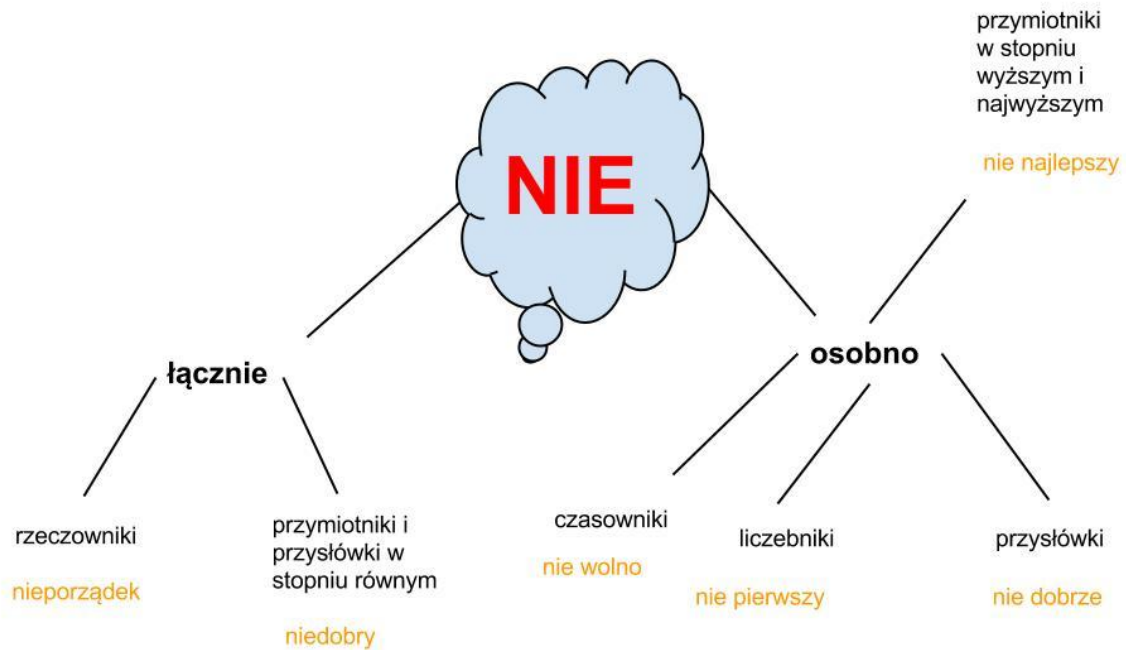


POLSKI

J. POLSKI

Temat: Pisownia „nie” z różnymi częściami mowy .

Przerysuj schemat do zeszytu:



Zapoznaj się z informacjami na str. 280 i 281 w podręczniku. Wykonaj ćwiczenie 3 oraz 4,

TECHNIKA

Temat: Urządzenia elektryczne.

Dzisiaj nauczysz się oglądając filmy:

1. Jak bezpiecznie korzystać z urządzeń elektrycznych?

[Kliknij na link](#)

<https://www.youtube.com/watch?v=xgVym7AjfY>

2. Jak oszczędzać prąd na co dzień?

<https://www.youtube.com/watch?v=ssbuazlp4Ts>

Kliknij na link

3. Jak uniknąć porażenia prądem?

<https://www.youtube.com/watch?v=MqdijteNy60>

Kliknij na link

WF

Temat: Zabawy ruchowe z BALONEM

<https://www.youtube.com/watch?v=O9FIhGaJFdk>

MATEMATYKA

Temat: Siatki prostopadłościanów – ciąg dalszy.

Na początku przypomnijmy sobie, co już wiemy o siatkach prostopadłościanu.

Siatką prostopadłościanu jest figura płaska, z której można złożyć model prostopadłościanu.

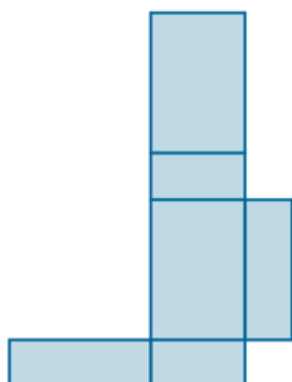
Siatka prostopadłościanu składa się z trzech par jednakowych prostokątów.

Ćwiczenia utrwalające.


Ćwiczenie 1

Czy poniższe rysunki przedstawiają siatki prostopadłościanów?

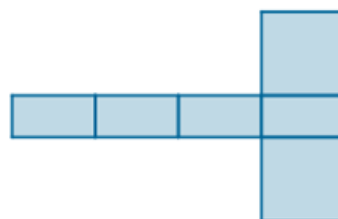
a)



b)

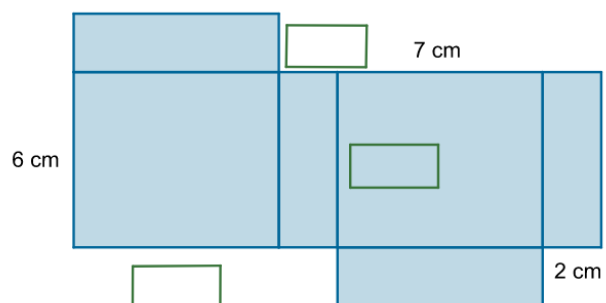
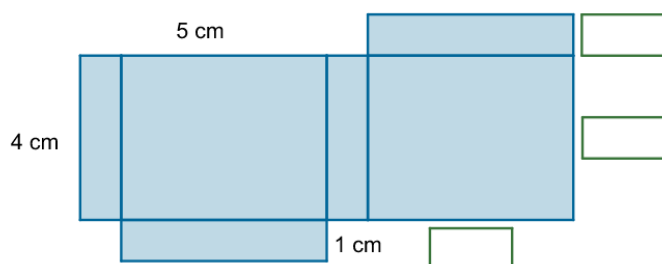


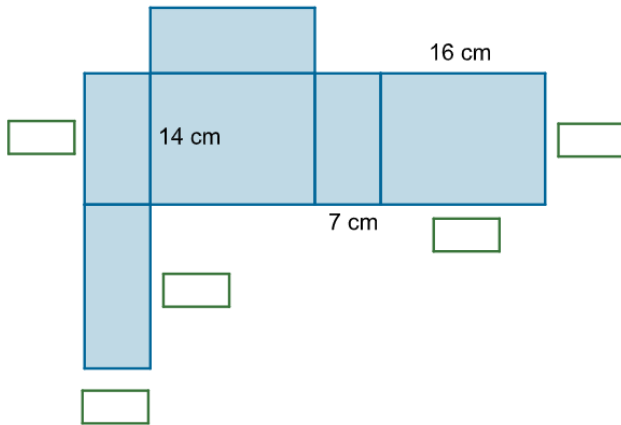
c)



Ćwiczenie 2

Wpisz w puste kratki długości krawędzi prostopadłościanu, którego siatkę przedstawia rysunek.





Ćwiczenie 3

Narysuj na kartce siatkę prostopadłościanu, tak aby:

- ściany były w kształcie prostokątów
- dwie ściany modelu były kwadratami

Ćwiczenia z dzisiejszej lekcji w formie interaktywnej dostępne są na portalu Epodreczniki.pl

<https://epodreczniki.pl/a/siatki-i-modele-prostopadloscianow-i-szescianow/DxIkvS4Gb>

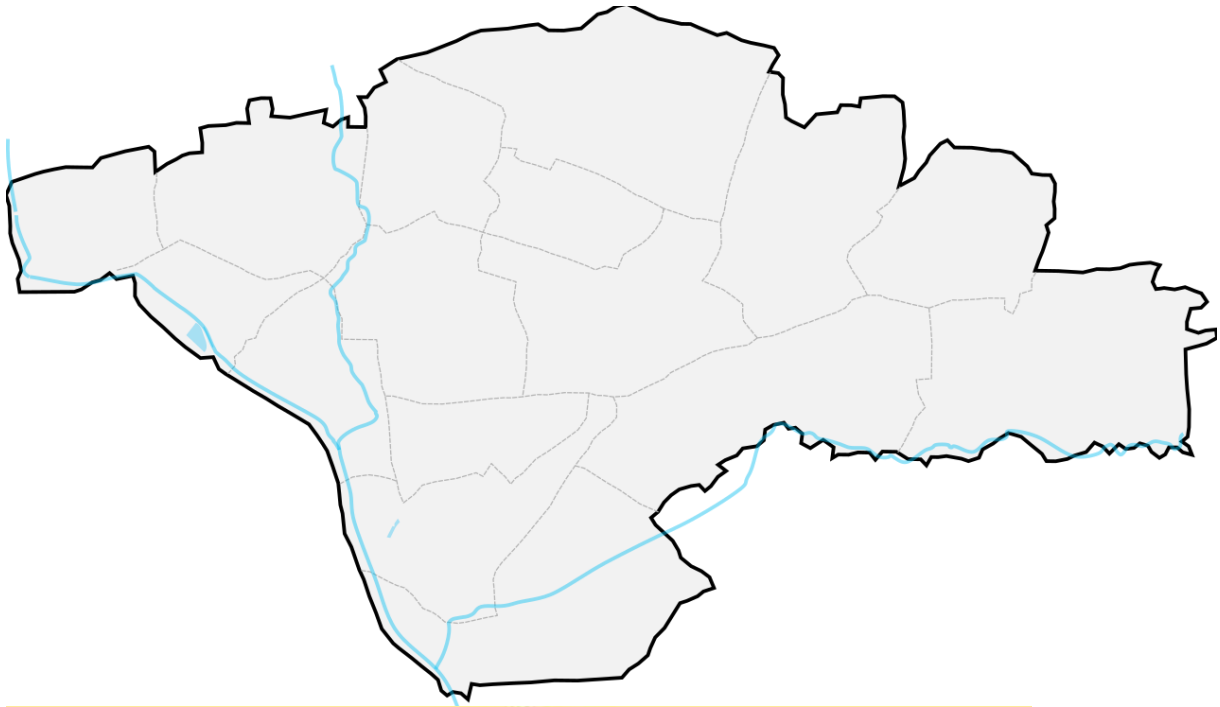
Jeżeli chcesz popracować więcej rozwiąż wybrane przez siebie zadania ze str. 161 z podręcznika.

Powodzenia!

HISTORIA

T: Sosnowiec, moje miasto!

1. Poniżej masz 2 mapy, na pierwszej zamaluj dzielnicę ,w której mieszkasz, skorzystaj z drugiej mapy.



2. Wpisz do zeszytu, kto jest prezydentem naszego miasta

3 Dla chętnych :

Narysuj rebus, w którym ukryła się nazwa ulicy, na której mieszkasz.