

27.05.2020 r. środa

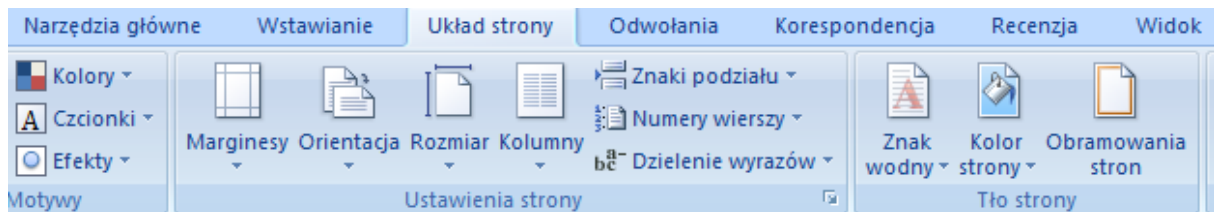
### wychowanie fizyczne

- Chód na czworakach, ze wsparciem na całych dłoniach i na palcach stóp,
- Naśladowanie chodu zwierząt,
- Przechodzenie po przeszkodach np. po leżącej piłce, zabawkach....
- Przekraczanie płaskich przeszkód np. rozłożyć luźno kartki i starać się przekroczyć – tak, by nie nadepnąć na kartkę.

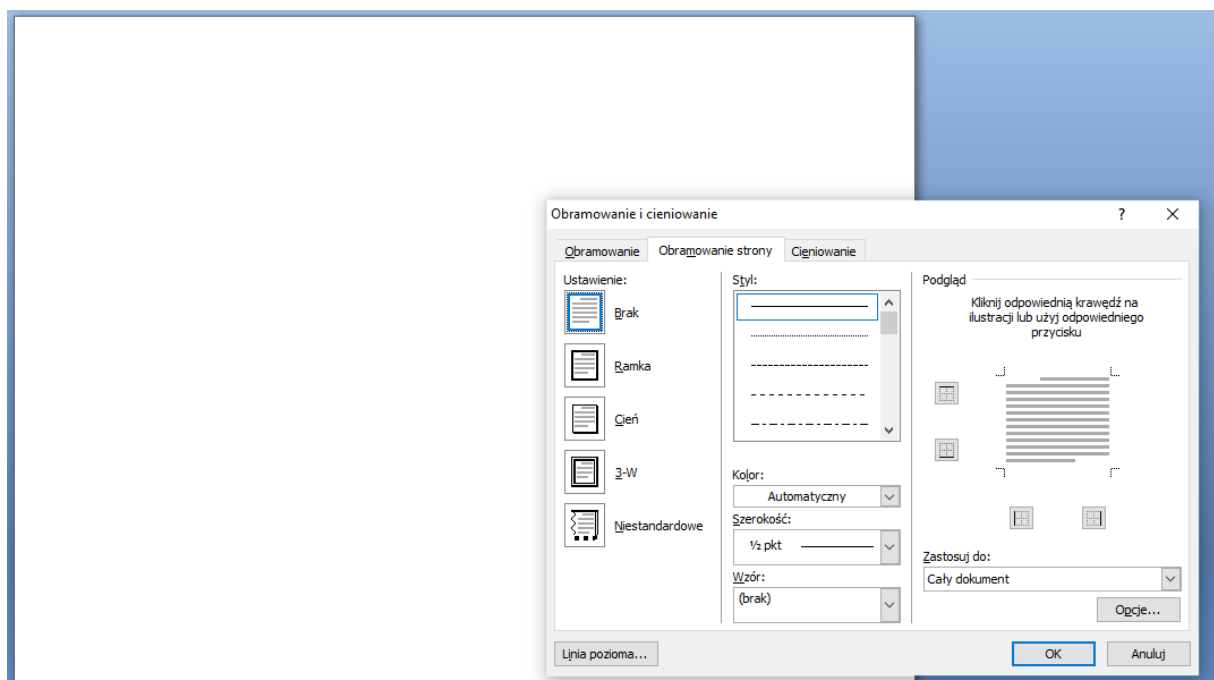
### edukacja informatyczna

Link do filmu instruktażowego: <https://www.youtube.com/watch?v=iUJYlrToNmo>

Otwieramy Worda, przechodzimy na zakładkę **Układ strony** i na pasku pojawiają się ikony jak poniżej.



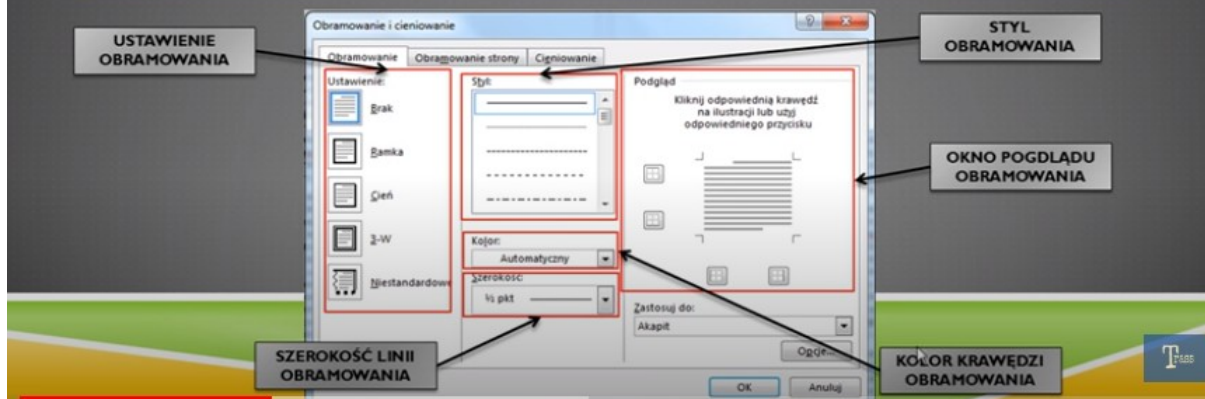
Klikamy na **Obramowanie stron** i pokazuje się nam okno jak poniżej.



## 3.4. OBRAMOWANIE I CIENIOWANIE

Obramowania to estetyczne ramki tekstu, obrazów lub całych stron. Dostosowując obramowania za pomocą stylów programu Word, można ulepszyć wygląd dokumentu.

Po dodaniu do tekstu obramowania można zmienić kolor, styl linii albo grubość linii w oknie **Obramowanie i cieniowanie**.



### Zadanie do wykonania

Wstaw w ramkę dowolne zdjęcie krajobrazu. Pamiętaj o podaniu informacji z jakiej strony pobrałeś/aś zdjęcie.

### edukacja polonistyczna

1. Przeczytaj kartkę z pamiętnika (podręcznik str.27) i odpowiedz na pytanie w zeszycie:

Czego można nauczyć się w podróży?

2. Przeczytaj tekst (podręcznik str.80 i 81). Wymień zabytki wspomniane w tekście. Poszukaj informacji o innych zabytkach Wielkopolski i zapisz je w zeszycie.

### edukacja matematyczna

**Temat:** Sprawdzanie wiadomości matematycznych dotyczących obliczeń zegarowych

- 2 Przyjrzyj się tabeli z rozkładem odjazdów pociągów z różnych miast i przyjazdów do Bielska-Białej. Odpowiedz na pytania. Potrzebne obliczenia wykonaj w pamięci lub na zegarze.

Stacja początkowa	Godzina odjazdu ze stacji początkowej	Godzina przyjazdu
Żywiec	9.35	10.08
Katowice	9.31	10.34
Warszawa	6.09	10.58
Racibórz	9.38	11.12

- Ile godzin i minut jedzie pociąg z Katowic do Bielska-Białej?
- Ile minut jedzie pociąg z Żywca do Bielska-Białej?
- Który pociąg jedzie najdłużej? Podaj nazwę stacji początkowej.  
Podaj, ile godzin i minut jedzie ten pociąg.
- Pociąg relacji Bielsko-Biała – Racibórz jedzie w obie strony tyle samo czasu. O której godzinie przyjedzie do Raciborza pociąg wyjeżdżający z Bielska-Białej o 17.30?

Odpowiedź:

Proszę przesłać swoje prace na e-mail [zagrodnik.hanna@outlook.com](mailto:zagrodnik.hanna@outlook.com) do 29.05.2020 r.  
(piątek) do godz. 15<sup>00</sup>.

Pozdrawiam Was  
Hanna Zagrodnik