

06.05.2020 r. środa

wychowanie fizyczne

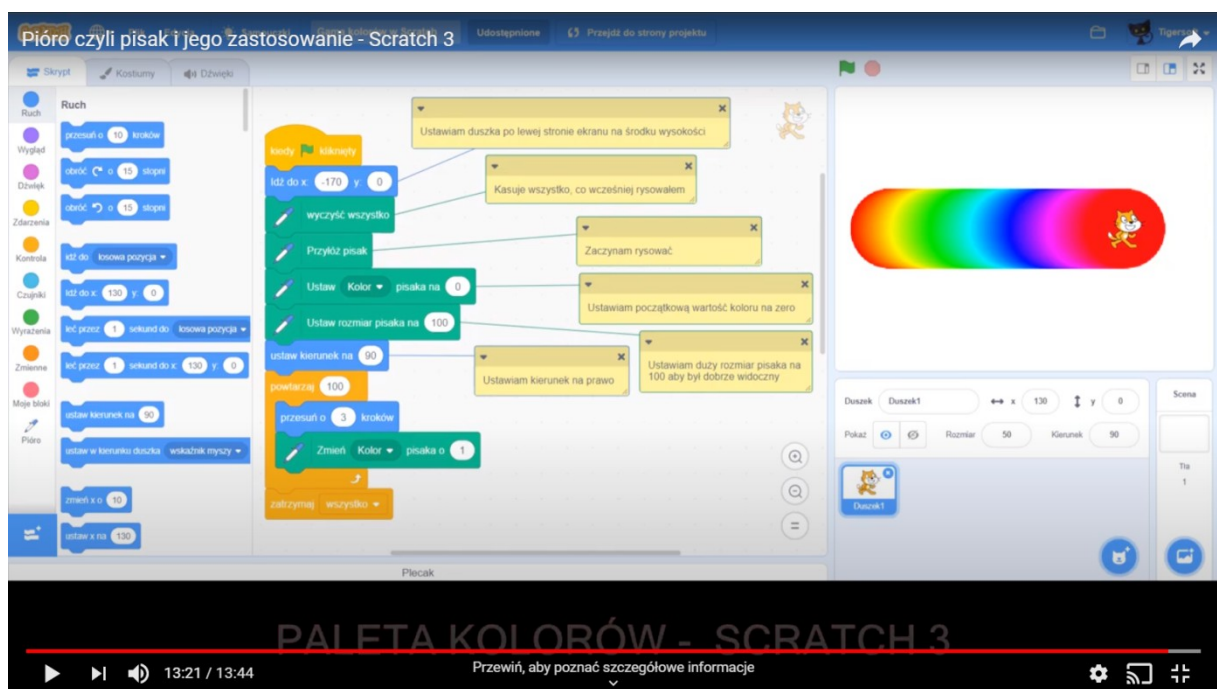
link do ćwiczeń: <https://www.youtube.com/watch?v=L-8wW40jTzc>

edukacja informatyczna

1. Obejrzyj film instruktażowy.

Link do filmu: <https://www.youtube.com/watch?v=0ga4Z6zVoC4>

2. Po obejrzeniu filmu wykonaj rysunek jak poniżej (duszek nie może być kotem, zmień go).
Zrób zdjęcie lub zrzut ekranu i wyślij nauczycielowi.



edukacja polonistyczna

Link do podręczników: <https://www.wsip.pl/edukacja-wczesnoszkolna-podreczniki-pdf/>

1. Czytanie wpisu do pamiętnika na s. 48 w podręczniku.
2. Na podstawie wpisu do pamiętnika ze s. 48 w podręczniku podziel tekst na zdania. Wstaw brakujące znaki interpunkcyjne i przepisuj poprawiony tekst do zeszytu.

dzisiaj odwiedziłem dziadków znalazłem ich na strychu co tam robili przywoływali piękne wspomnienia czy mi o tym opowiedzą mam nadzieję chętnie zapiszę kilka rodzinnych historii

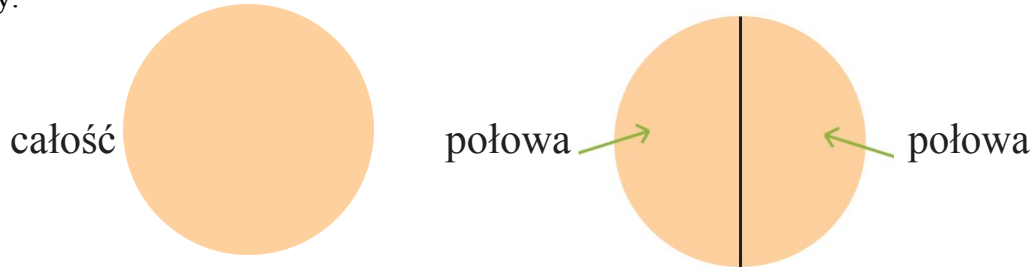
3. Wskaż w tekście z pamiętnika wyraz z **ch** wymiennym na **sz**. Zapisz je według wzoru w zeszytcie.

wzór: duch – duszek

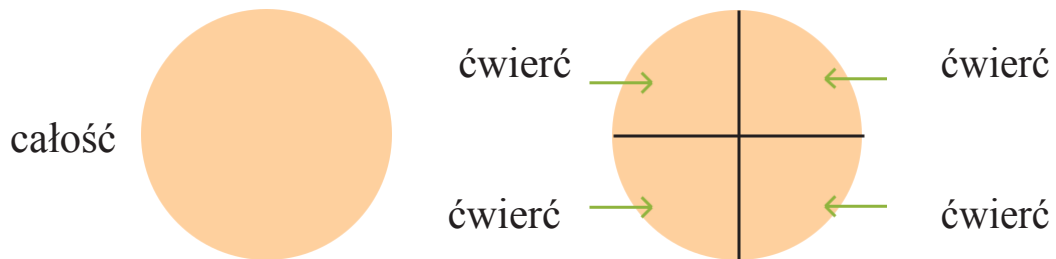
4. Wykonaj w kartach pracy ćwiczenie 6 i 7 na s. 50.

edukacja matematyczna

Jeżeli figurę podzielimy na **dwie równe** części, to każda z tych części będzie **połową** tej figury.



Jeżeli figurę podzielimy na **cztery równe** części, to każda z tych części będzie **ćwiercią** tej figury.



Linki do filmów:

<https://vimeo.com/406175176/6e28ef901d>

<https://vimeo.com/406175176/6e28ef901d>

<https://vimeo.com/406172768/fbc5c7d9f6>

1. Uzupełnij tabelkę

| | | | | | | | | |
|---------------|----|----|----|----|----|----|-----|----|
| całość | 80 | 40 | | | | | 120 | |
| połowa | 40 | | 50 | 18 | | | | 70 |
| ćwierć | | | | | 14 | 23 | | |

2. Rozwiązywanie zadań

Zadanie 1

Drabina ma 22 szczeble. Monika pokonała połowę szczebli tej drabiny. Ile to szczebli?

Zadanie 2

W klasie Franka jest trzydzieścioro dwoje dzieci. Na podstawie poniższych informacji uzupełnij tabelę. Potrzebne obliczenia wykonaj w zeszycie.

- Połowa liczby dzieci w klasie to dziewczęta.
- Połowa liczby dziewczynek i ćwierć liczby chłopców lubi czytać książki.
- Ćwierć liczby wszystkich dzieci w klasie (tyle samo dziewcząt i tylu samo chłopców) ma hulajnogę.

| | Liczba dziewczynek | Liczba chłopców |
|------------------|--------------------|-----------------|
| dzieci | | |
| książki | | |
| hulajnogi | | |

Proszę przesłać swoje prace na e-mail zagrodnik.hanna@outlook.com do 08.05.2020 r. (piątek) do godz. 15⁰⁰.

Pozdrawiam Was
Hanna Zagrodnik