
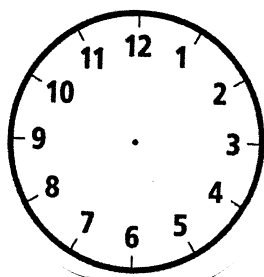


4. Zamaluj na tarczy zegara 2 kwadransy, tak aby zegar wskazywał 12:30.  
Uzupełnij zdanie.

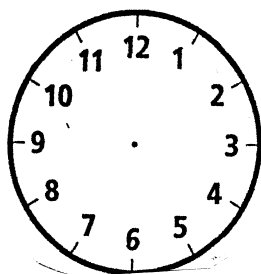


Pół godziny to ..... kwadransy.

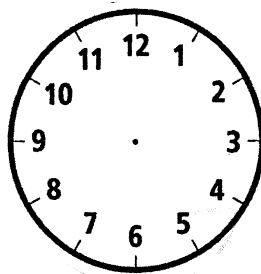
5. Zaznacz na zegarach podane godziny.



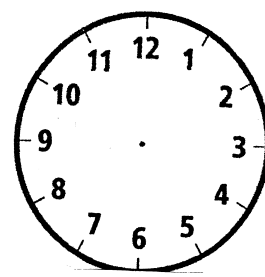
13:30



16:30



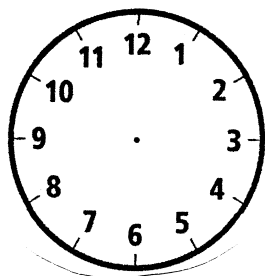
18:30



20:30

6. Rozwiąż zadanie.

Kuba jadł obiad przez kwadrans. Zaczął jeść o 12:15. O której Kuba skończył jeść obiad?



Kuba skończył jeść obiad o godzinie .....